

Examen Théorie de l'Information

Documents autorisés, durée 1 heure

Correction Correction Correction Correction Correction Correction

I - Exercice codage de source (25 minutes)

Une source binaire génère les symboles s_1 et s_2 avec les probabilités $p(s_1)=0,9$ et $p(s_2)=0,1$. Les deux symboles sont indépendants.

a) Calculer l'entropie de cette source binaire.

→ **$H(S) = 0,469$ bit/symbole**

b) Calculer l'entropie de la source étendue, constituée de $n=3$ symboles de la source binaire.

→ **$H(S^3)=3.H(S)=1,4$ bit/symbole**

c) Donner la probabilité de chacun des symboles de la source étendue.

→ **Cf tableau reponse d)**

d) On code la source étendue par un codage binaire de Huffman. Donner le code obtenu pour chaque symbole de la source étendue.

Symboles S_k	Probabilités $p(S_k)$	Longueurs des mots- code l_k	Mots-code c_k
$S_1 = s_1 s_1 s_1$	0,729	1	0
$S_2 = s_1 s_1 s_2$	0,081	3	100
$S_3 = s_1 s_2 s_1$	0,081	3	101
$S_4 = s_2 s_1 s_1$	0,081	3	110
$S_5 = s_2 s_2 s_1$	0,009	5	11100
$S_6 = s_2 s_1 s_2$	0,009	5	11101
$S_7 = s_1 s_2 s_2$	0,009	5	11110
$S_8 = s_2 s_2 s_2$	0,001	5	11111

e) Calculer l'efficacité η_1 du code de la source binaire initiale, l'efficacité η_2 du code de la source étendue et l'efficacité η_3 du code de la source codée. Conclusion ?

→ **$\eta_1 = 0,469$; $\eta_2 = \eta_1$; $\eta_3 = 0,875$**

→ **le regroupement de n symboles n'augmente pas l'efficacité**

→ **le codage d'un regroupement de symboles augmente l'efficacité, ici optimal mais non optimal absolu.**

II - Exercice codage de canal (35 minutes)

Une source binaire d'entropie maximale est codée par le codeur convolutif récursif systématique suivant :

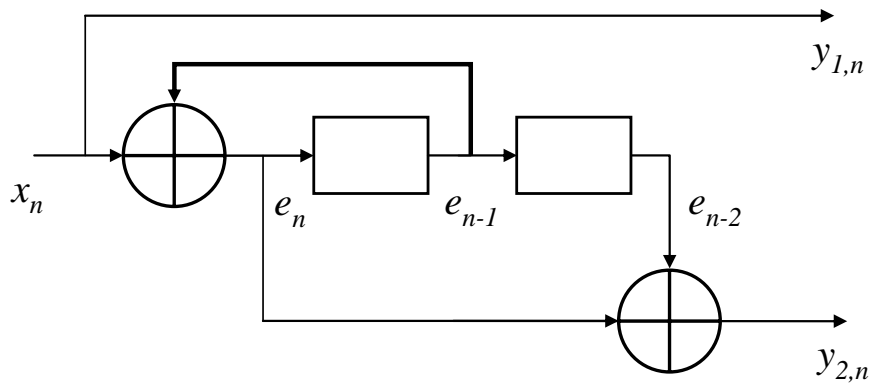
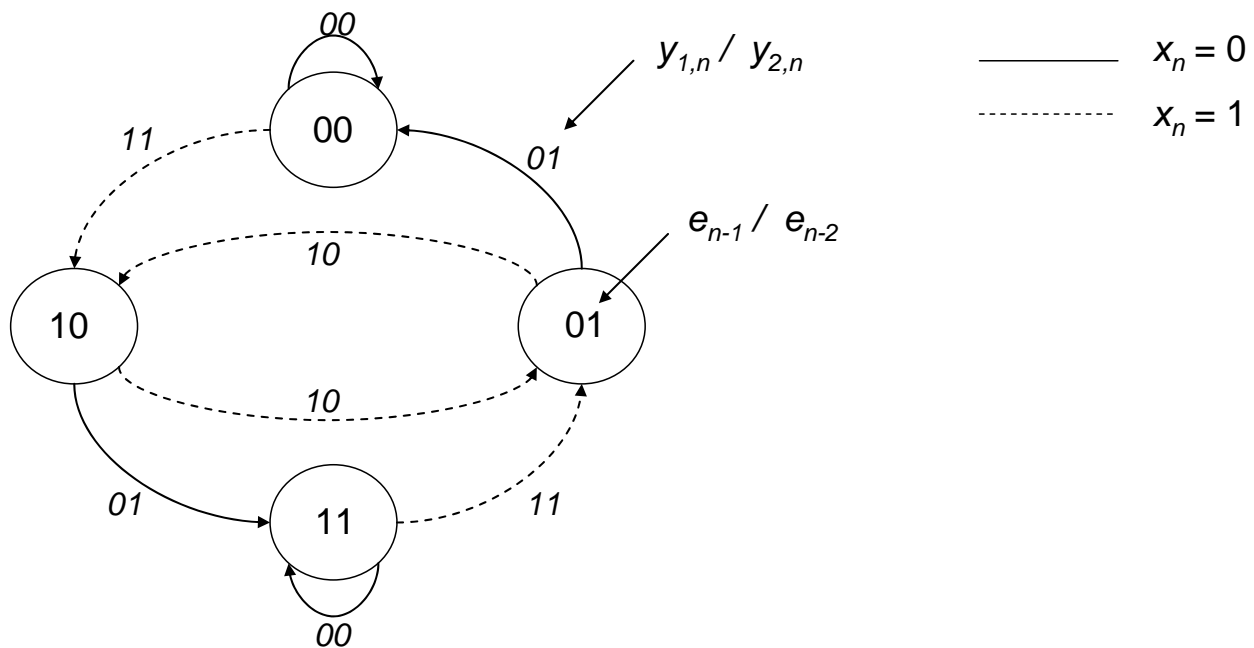


Figure 1 : codeur convolutif récursif systématique

a) Etablir les équations logiques de $y_{1,n}$, $y_{2,n}$ et e_n .

- $y_{1,n} = x_n$
- $y_{2,n} = x_n \oplus e_{n-1} \oplus e_{n-2}$
- $e_n = x_n \oplus e_{n-1}$

b) Faire le diagramme d'état du codeur. Préciser les notations utilisées !



c) Donner les séquences x_n ayant générés les messages suivant : « 00 11 01 11 » et « 10 10 01 00 ». **Remarque ?**

→ 00 11 01 11 → OK → 0 1 0 1 même code malgré les deux possibilités !!

→ 10 10 01 00 → OK → 1 1 0 0 même code malgré les deux possibilités !!

Les deux sorties d'un état ont entre elles une $D_{min} = 2$!!!

Symétrie du diagramme : 2 états sont bouclants sur 00 (état 00 et 11)

Initialisation en 00 ou 11 sans importance.

d) Dédire des questions précédentes la distance de Hamming minimum entre deux mots-code de ce codeur (attention il y a deux états bouclant sur 00...).

→ $D_{min} = 3 = D(00\ 00\ 00\ 00\ 00\dots, 11\ 01\ 00\ 00\ 00\dots)$

e) Vérifier que le message suivant « 11 11 01 00 » ne provient pas du codeur.

Corriger et décoder ce message (état initial du codeur « 00 »).

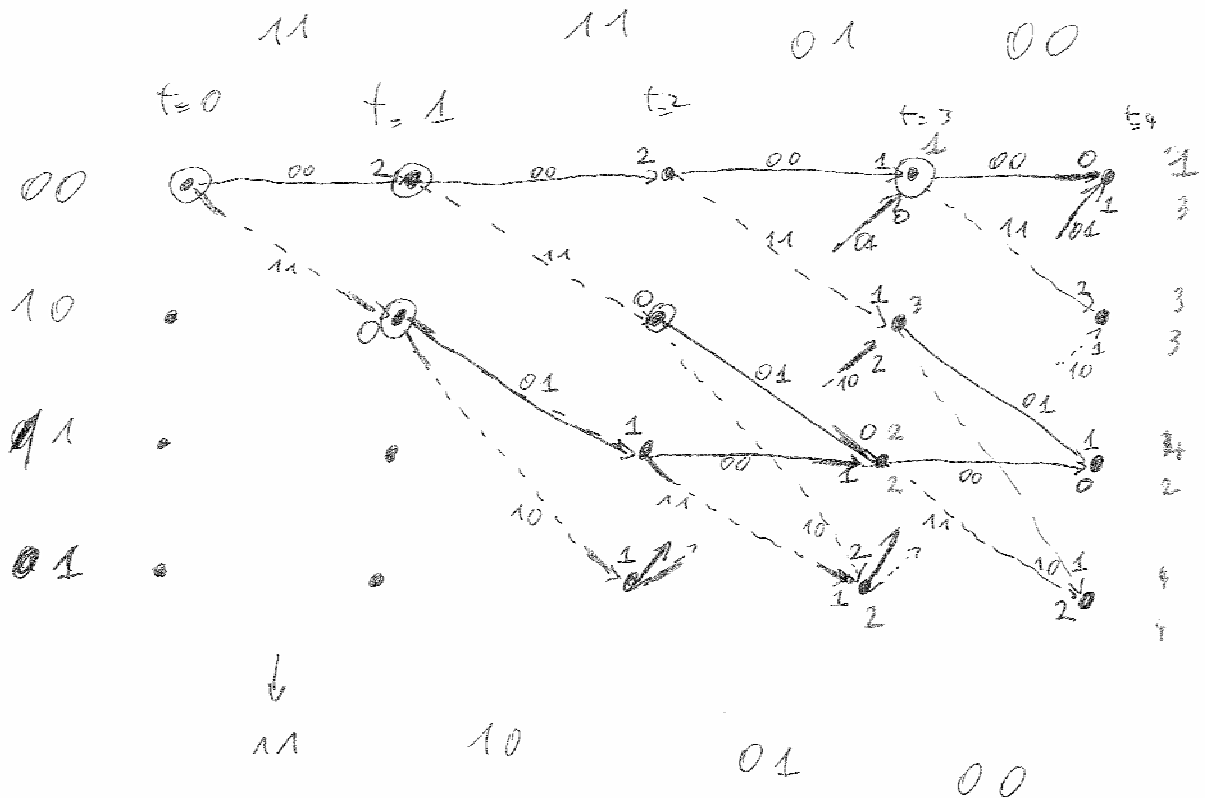
➔ 11 11 01 00 ➔ pas ok car deux « 11 » successifs !

$D_{min} = 3$ donc une erreur corrigable

Deux solutions : directement via le diagramme (20 secondes) ou Viterbi (10 min).

Code corrigé : 11 10 01 00

Décodage : 1 1 0 0



f) Après le codage de i symboles x_n de la source, il faut ajouter un seul symbole de vidage (0). Donner le taux d'émission du codeur pour $i=1$ et $i=\infty$.

➔ $R(i) = \frac{i}{2(i+1)}$, $R(1) = 1/4$; $R(\infty) = 1/2$.